

2019 北京市朝阳区初三一模历史考试逐题解析

2019.5

本部分共 30 小题，每小题 1.5 分，共计 45 分。在每小题列出的四个选项中，选出最符合题目要求的一项。

1. 一座博物馆的常规展览中有骨耜、稻谷遗存、复原的干栏式房屋等展品。这座博物馆应是

A. 北京人遗址博物馆

B. 半坡博物馆

C. 河姆渡遗址博物馆

D. 殷墟博物馆

【答案】C

【解析】 本题考查史前时期，中国境内人类的活动相关知识点。依据材料“骨耜、稻谷遗存、干栏式房屋”并结合所学可知与之相关的远古居民为河姆渡人。故 C 正确，ABD 与材料不符，故错误。

2. 商王盘庚迁都于殷，在此传位十二王，创造了辉煌的商代文明。以下考古发现能说明这一观点的是



A. ①②

B. ①③

C. ①④

D. ②③

【答案】D

【解析】 本题考查青铜器与甲骨文相关知识点。

①项，人面鱼纹彩陶盆为半坡遗址出土，不属于商代文明，故错误；

②项，甲骨文为商周时期刻在龟甲、兽骨上的文字，属于商代文明，故正确；

③项，司母戊鼎是迄今世界上出土最重的青铜器，属于商代文明，故正确；

④项，秦俑为秦始皇陵出土，不属于商代文明，故错误。

综上，D选项正确。

3.《左传》记载“天子建国，诸侯立家，卿置侧室，大夫有二宗”。这一制度建立于

A.夏朝

B.商朝

C.西周

D.春秋

【答案】C

【解析】本题考查分封制相关知识点。由材料“天子、诸侯、卿、大夫”可知与之相关的制度为分封制。结合所学可知，分封制建立于西周，故C正确，ABD与材料不符，故错误。

4.一位同学在作文中引用了以下名言。这些名言出自

己所不欲，勿施于人。

君子所性，仁义礼智根于心。

富贵不能淫，贫贱不能移，威武不能屈。

A.儒家

B.墨家

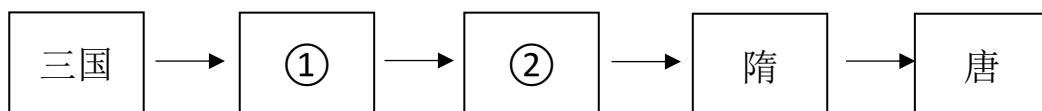
C.道家

D.法家

【答案】A

【解析】本题考查百家争鸣相关知识点。材料“己所不欲，勿施于人”为孔子所说，“君子所性，仁义礼智根于心”和“富贵不能淫，贫贱不能移，威武不能屈”为孟子所说。孔子，孟子皆为儒家代表人物，故A正确，BCD与材料不符，故错误。

5.以下示意图中①②的时代特征是



A.社会动荡与变革

B.大一统局面的开创

C.政权分立与民族交融

D.繁荣与开放的社会

【答案】C

【解析】本题考查中国古代史不同时期阶段特征相关知识点。结合所学可知，①②应为两晋、南北朝。

A.本选项是春秋战国时期，与材料所述时间不符，故错误；

B.本选项是秦汉时期，与材料所述时间不符，故错误；

C.本选项是三国两晋南北朝时期，与材料所述时间相符，故正确；

D.本选项是隋唐时期，与材料所述时间不符，故错误

6.唐太宗把太子成年礼这一重大礼仪，由农忙的二月改在十月举行。进攻突厥这样的重大战争，也放在十月到次年一月的冬闲时进行。以上材料说明唐太宗

A.以民为本，避免干扰生产

B.虚心纳谏，变革礼仪制度

C.善于谋略，选准作战时机

D.提倡节俭，减轻人民负担

【答案】A

【解析】本题考查贞观之治相关知识点。由材料“唐太宗将太子成年礼以及进攻突厥的军事行为由农忙时期改到农闲时期”可知唐太宗李世民爱惜民力，注重民生。故 A 正确，BCD 与材料不相关，故错误。

7.宋金对峙时期，约 500 万北方移民迁入江南地区；另一方面，南宋政府大力发展农业生产。材料反映出

A.江南地区得到初步开发

B.经济重心南移的基本过程

C.经济作物种植面积扩大

D.经济重心南移的主要原因

【答案】D

【解析】本题考查宋代经济的发展相关知识点。由材料“移民迁入江南地区，南宋政府大力发展农业生产”可知经济重心南移的原因是北方移民的迁入和南宋政府的支持。故 D 正确，ABC 与材料不相关，故错误。

8.近几十年，东南亚、印度、阿拉伯地区和非洲等地都发现了 15 世纪初期中国的青花

瓷。这些发现可以用来研究

- A.张骞通西域 B.玄奘西游 C.鉴真东渡 D.郑和下西洋

【答案】D

【解析】本题考查中国古代的对外关系相关知识点。由材料“15 世纪”可知该时期为明朝。

A.本选项发生在汉朝，与材料时间不符，故错误；

B.本选项发生在唐朝，与材料时间不符，故错误；

C.本选项发生在唐朝，与材料时间不符，故错误；

D.本选项发生在明朝，与材料时间相符，故正确。

9.顺治皇帝册封五世达赖与乾隆皇帝平定大小和卓叛乱的共同作用是

A.加强了对西藏地区管理

B.巩固了统一多民族国家

C.增进了与外国友好往来

D.安定了我国的西北边疆

【答案】B

【解析】本题考查统一多民族国家的巩固和发展相关知识点。结合所学可知，顺治皇帝册封五世达赖体现清廷对西藏地区的有效管辖，乾隆皇帝平定大小和卓叛乱有利于巩固西北边防。

A.本选项与平定大小和卓叛乱不相关，故错误；

B.本选项是册封五世达赖和平定大小和卓叛乱共同作用，故正确；

C.本选项增进了与外国友好往来与材料无关，故错误；

D.本选项与册封五世达赖不相关，故错误。

10. 以下四幅疆域示意图排序正确的是



A. ②①③④

B. ②①④③

C. ①②③④

D. ①②④③

【答案】B

【解析】本题考查中国古代史相关知识。

①项，由图示中“长安”“西域都护府”可知该时期为汉朝；

②项，由图示中“咸阳”“匈奴”及疆域范围可知该时期为秦朝；

③项，由图示中“大都”“宣政院”可知该时期为元朝；

④项，由图示中“长安”“吐蕃”可知该时期为唐朝。

综上，B选项正确。

11. 历史事实是对历史的客观描述，历史观点是对史实的看法。下列选项中属于历史观点的是

A. 闭关自守使中国落后于世界发展的潮流

B. 乾隆时期只开放广州一处作为通商口岸

C. 清政府严格限制出海贸易船只的载重量

D. 清朝统治者认为中国物产丰富无所不有

【答案】A

【解析】本题考查信息提取能力。历史事实是对历史的客观描述，历史观点是对史实的看法。

A. 本选项为对于闭关锁国的看法，属于历史观点，故正确；

B. 本选项为对清朝通商口岸的描述，属于历史事实，故错误；

C.本选项为对清朝海外贸易规定的描述，属于历史事实，故错误；

D.本选项为对清朝统治者看法的描述，属于历史事实，故错误；

12.一位历史学家说：这一事件是中国人民反抗西方殖民主义侵略斗争的伟大起点。此事件是

A.虎门销烟

B.金田起义

C.义和团运动

D.武昌起义

【答案】A

【解析】本题考查虎门销烟相关知识点。

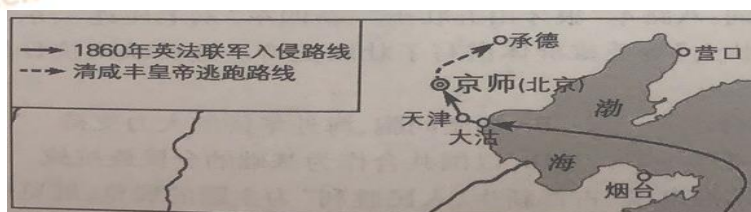
A.本选项是人民禁烟斗争的伟大胜利，发生于1839年，显示了中华民族反抗外来侵略的坚强意志，是中国人民反抗西方殖民主义侵略斗争的伟大起点，故正确；

B.本选项发生于1851年，与题意不符，故错误；

C.本选项开始于19世纪末，与题意不符，故错误；

D.本选项发生于1911年，与题意不符，故错误。

13.与以下地图所反映的历史事件直接相关的史实是



A.签订中英《南京条约》

B.英法联军火烧圆明园

C.甲午战争中清军战败

D.改总理衙门为外务部

【答案】B

【解析】本题考查火烧圆明园相关知识点。

A.本选项签订于1842年，与材料所述时间不符，故错误；

B.本选项发生于1860年，与题意相符，故正确；

C.本选项战败于1895年，与材料所述时间不符，故错误；

D.本选项为《辛丑条约》内容，签订于1901年，与材料所述时间不符，故错误。

14. 以下内容共同反映出洋务运动

- ★创办了第一批近代军事工业：安庆内军械所、江南制造总局等
- ★兴办了第一批近代民用企业：轮船招商局、开平矿务局等
- ★建立了第一批近代海军：南洋、福建和北洋三支海军

- A. 推动了中国民族资本主义发展
- B. 抵御了西方列强的经济侵略
- C. 使中国迈出了近代化的第一步
- D. 使近代社会生活发生了变化

【答案】C

【解析】本题考查洋务运动相关知识。

A. 洋务运动时创办的近代军事工业、民用工业在客观上促进了中国民族资本主义的产生，但与建立近代海军不相关，故错误；

B. 洋务运动时创办的近代军事工业、民用工业在对外国资本的入侵起到了一定的抵制作用，但该选项说法过于绝对，故错误；

C. 洋务运动时创办的近代军事工业、民用工业、近代海军，使中国迈出了近代化的第一步，故正确；

D. 近代社会生活变化与建立近代海军不相关，故错误。

15. 一位同学分类梳理中国近代历史人物，其中①处应填

类别一：曾国藩 李鸿章 张之洞

类别二：康有为 谭嗣同 —①—

类别三：聂耳 徐悲鸿 齐白石

类别四：佟麟阁 赵登禹 张自忠

- A. 邓世昌
- B. 梁启超
- C. 张謇
- D. 孙中山

【答案】B

【解析】本题考查中国近代历史名人相关知识点。结合所学可知，材料中的类别一为洋务派，类别二为维新派，类别三为艺术家，类别四为抗日英雄。

- A.本选项为甲午中日战争时期的民族英雄，不属于维新派，故错误；
- B.本选项为维新派代表人物，故正确；
- C.本选项为清末状元实业家，不属于维新派，故错误；
- D.本选项为革命派代表人物，不属于维新派，故错误。

16.右侧漫画反映的是


- A.废除科举制
- B.新文化运动
- C.反对北洋军阀
- D.剪发辫易服饰



【答案】B

【解析】本题考查新文化运动相关知识点。图示内容用标有“民主”“科学”的两把斧子打倒“孔家店”，结合所学可知，民主和科学为新文化运动的口号，故该漫画所反映的是新文化运动。BCD选项与材料描述不符，故B选项正确。

17.下图是一位同学保留的景区门票，在此景区可以了解的历史是



- A.中国共产党第一次全国代表大会的召开
- B.国共两党合作，国民革命军誓师北伐
- C.中国共产党创建第一个农村革命根据地
- D.红军三大主力会师，胜利完成了长征

【答案】C

【解析】 本题考查新民主主义革命相关知识点。根据门票描述的文字“井冈山革命博物馆”、“江西井冈山茨坪”，可知该景区为井冈山。

A. 本选项中国共产党第一次全国代表大会在上海召开，后转移至浙江嘉兴南湖游船，地点不符，故错误；

B. 本选项国民革命军誓师北伐，以推翻吴佩孚、孙传芳、张作霖等军阀的统治，与图中井冈山不符，故错误；

C. 本选项中国共产党创建的第一个农村革命根据地井冈山革命根据地，与图中井冈山相符，故正确；

D. 本选项红军三大主力会师地点为甘肃会宁，地点不符，故错误。

18. 《复兴之路》展览中有一段解说词：八路军“狼牙山五壮士”、新四军“刘老庄连”、东北抗联八位女战士、国民党军“八百壮士”等英雄群体谱写了壮丽史诗。这反映出抗日战争胜利的原因是

A. 世界反法西斯同盟的密切配合

B. 港澳同胞、海外华侨的大力支持

C. 中国人民的抗战是正义的事业

D. 以国共合作为基础的全民族抗战

【答案】D

【解析】 本题考查抗日战争相关知识点。根据材料中“八路军”“狼牙山五壮士”“新四军”“刘老庄连”、“东北抗联八位妇女战士”、“国民党军”“八百壮士”。结合所学可知抗日战争胜利的原因为共产党和国民党团结协作建立抗日民族统一战线，实行全民族抗战。ABC 选项与材料描述不符，故 D 选项正确。

19. 2019 年 1 月 31 日，北京市档案馆推出以“古都新生，人民胜利”为主题的展览，展览包括和谈成功、定都北京等部分。与展览主题直接相关的是

A. 辽沈战役

B. 淮海战役

C. 平津战役

D. 渡江战役

【答案】C

【解析】 本题考查解放战争相关知识点。由材料“古都新生，人民胜利”、“和谈成功、

定都北京”并结合所学可知该展览主题相关的是平津战役。

- A.本选项辽沈战役解放东北全境，地点不符，故错误；
- B.本选项淮海战役解放了长江中下游地区，地点不符，故错误；
- C.本选项平津战役主要作战区为北平、天津，故正确；
- D.本选项，渡江战役中人民解放军横渡长江，占领南京，地点不符，故错误。

20.毛泽东在中国人民政治协商会议第一届全体会议上说：“占人类总数四分之一的中国人从此站立起来了。”对此理解正确的是

- ①中国结束百年屈辱，成为独立自主的国家
- ②各阶层人民享有政治、经济等民主权利
- ③废除了封建土地制度，农民获得了土地
- ④我国已经建设成为社会主义工业化强国

A.①②

B.②③

C.③④

D.①④

【答案】A

【解析】本题考新中国的成立与巩固相关知识。

①项，中国结束了百年屈辱，成为独立自主的国家，为新中国成立的意，故正确；

②项，新中国成立后各阶层人民享有政治、经济等民主权利，故正确；

③项，废除封建土地制度，农民获得了土地为土地改革的意义，与材料不符，故错误；

④项，新中国成立后我国是新民主主义国家，故错误。

综上，A选项正确。

21.“一五”计划期间，我国第一座电子管厂在北京市朝阳区建成。同一时期，我国取得的成就还包括

A.全国基本完成土地改革

B.基本完成了“三大改造”

C.研制成功原子弹和氢弹

D.载人航天飞船发射成功

【答案】A

【解析】本题考查一五计划相关知识点。一五计划的时间为 1953 年至 1957 年。

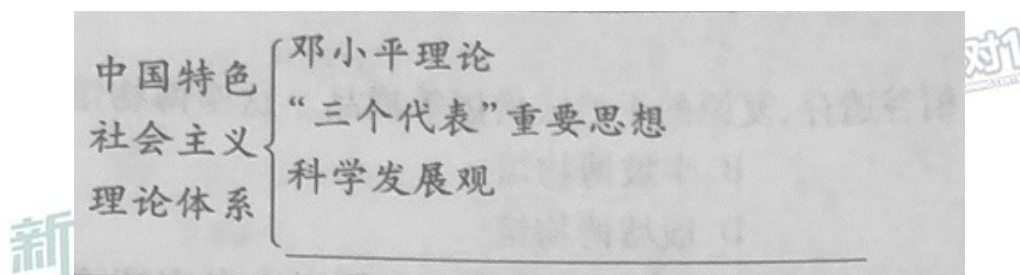
A.本选项全国基本完成土地改革的时间为 1952 年，时间不符，故错误；

B.本选项“三大改造”的时间为 1953-1956 年底，时间相符，故正确；

C.本选项研制成功原子弹研制成功的时间为 1964 年，氢弹爆炸成功是在 1967 年，时间不符，故错误；

D.本选项载人航天飞船发射成功的时间为 2003 年，时间不符，故错误。

22.以下示意图中空白处应填写



A.习近平新时代中国特色社会主义思想

B.人民代表大会制度

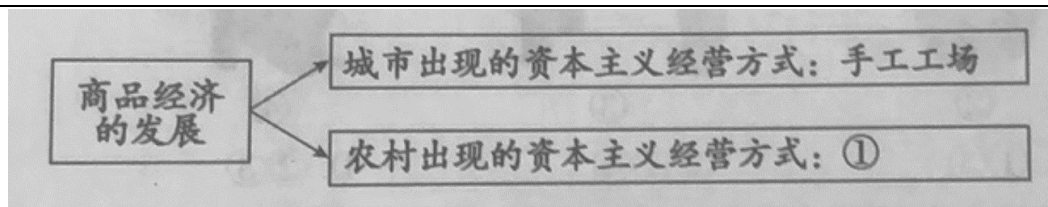
C.中国共产党领导的多党合作和政治协商制度

D.民族区域自治制度

【答案】A

【解析】本题中国特色社会主义理论体系相关知识点。中国特色社会主义理论体系包含邓小平理论，“三个代表”重要思想，科学发展观，习近平新时代中国特色社会主义思想，故本题正确选项为 A 选项。

23.14 世纪以后，西欧城市和农村都出现了新的变化。以下示意图中①处应填



A.手工行会

B.庄园经济

C.圈地运动

D.租地农场

【答案】D

【解析】本题考查封建时代的欧洲相关知识点。考查学生基础知识的掌握和读图能力。结合所学可知，商品经济的发展使城市出现了资本主义经营方式，手工工场；农村了出现的资本主义经营方式为租地农场。ABC 选项与材料表述不符，故本题的正确选项为 D 选项。

24.与欧洲大陆的君主专制相比，这才是真正意义的、具有永久性的英国革命。如果一位君主既不能控制财政，又不能控制军队，那么他根本算不上真正的君主。对材料解读正确的是

A.专制王权引发了英国资产阶级的不满

B.“光荣革命”采用了不流血的和平方式

C.英国资产阶级革命废除了国王

D.英国创造并确立了君主立宪制

【答案】D

【解析】本题考查欧美资产阶级革命相关知识点。根据材料“既不能控制财政，又不能控制军队，他根本就算不上真正的君主。”并结合所学可知，英国通过革命，成功限制了国王的权力，即英国确立了君主立宪制。ABC 选项与材料表述不符，故本题的正确选项为 D 选项。

25.一份文件列举了英国国王向殖民地强行征税等 27 条罪行，并宣布：“这些联合殖民地应成为而且名正言顺地应当成为自由独立的国家。”这份文件是

A. 《权利法案》

B. 《独立宣言》

C. 《人权宣言》

D. 《解放黑人奴隶宣言》

【答案】B

【解析】本题考查欧美资产阶级革命相关知识点。根据材料“殖民地”“成为自由独立的国家”，并结合所学可知，该事件为美国独立战争，1776 年《独立宣言》发表，宣告北美 13 个殖民地脱离英国独立。故 B 正确，ACD 选项与材料表述不符，故错误。

26. 右图中英国农业人口占总人口百分比变化的主要

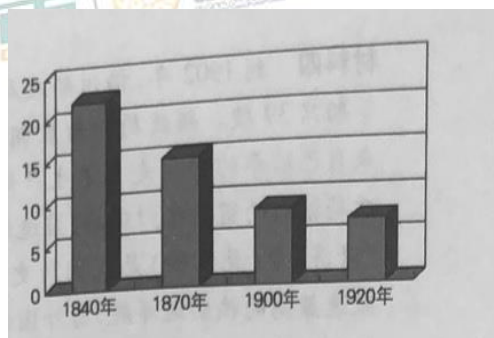
原因是

A. 英国的殖民扩张

B. 英国资产阶级革命

C. 两次工业革命

D. 第一次世界大战

**【答案】C**

【解析】本题考查两次工业革命相关知识点。考查学生图表信息分析能力。由图可知，由 1840 年开始到 1920 年，随着时间的推移，英国农业人口所占总人数百分比呈下降趋势。结合所学可知，1840 英国正在进行第一次工业革命，各部门发明和制造机器，促进了生产的发展。

A. 本选项对应时间为 16、17 世纪，时间不符，故错误；

B. 本选项英国资产阶级革命的时间为 1640-1688 年，时间不符，故错误；

C. 本选项两次工业促进了生产力的发展，从事农业人口减少，故正确；

D. 本选项第一次世界大战的时间为 1914-1918 年，时间不符，故错误。

27. 以下《19 世纪 60-70 年代俄国制造业统计表》说明

年份	企业个数 (个)	工人数 (人)	产值 (千卢布)
----	----------	---------	----------

1860	99	11600	7954
1879	187	42000	51937

- A.彼得一世改革开启了俄国近代化进程
- B.俄国加强了沙皇专制统治，强化农奴制
- C.克里米亚战争的失败是俄国改革的催化剂
- D.亚历山大二世改革推动了俄国资本主义发展

【答案】D

【解析】本题考查俄国改革相关知识点。考查学生读图分析能力。由图表可知，1879 年较 1860 年，企业数、工人数和产税数值都呈上升趋势。结合所学可知，1860 年为沙皇亚历山大二世执政期间，1861 年，亚历山大二世颁布了废除农奴的法令，推动俄国走上了发展资本主义的道路。ABC 与图表信息不符，故本题的正确答案为 D 选项。

28.他推断月亮越靠近地球，“吸引力”越大，从而把海水引向自己。随着地球的转动，大海的某一区域离月亮时近时远。引力也随之增强减弱，这样我们就看到了海洋的涨潮和退潮。材料中的“他”是

- A.牛顿
- B.瓦特
- C.达尔文
- D.爱因斯坦

【答案】A

【解析】本题考查牛顿万有引力定律相关知识点。根据“月亮靠近地球，‘吸引力’越大……月亮离地球时近时远，引力也随之增强减弱”结合所学可知，材料描述理论为万有引力定律，与之相关的人物为牛顿，BCD 与材料信息不符，故本题的正确答案为 A 选项。

29.第二次世界大战中，规定了“日本所窃取于中国之领土，例如满洲、台湾、澎湖群岛等”归还中国的文件是

- A.《联合国宣言》
- B.《开罗宣言》

C.《雅尔塔协定》

D.《波茨坦公告》

【答案】B**【解析】**本题考查第二次世界大战相关知识点。

A.本选项《联合国宣言》为美、苏、英、中等 26 个国家的代表签订，签字国保证使用自己的全部军事和经济资源，对德、日、意及其仆从国作战，相互合作，绝不单独同敌人停战议和，与材料文件内容不符，故错误；

B.本选项《开罗宣言》明确规定日本所窃取中国的领土，例如东北、台湾和澎湖列岛等，必须归还中国。与材料文件内容符合，故正确；

C.本选项《雅尔塔协定》未涉及“满洲、台湾、澎湖列岛”归属问题，故错误；

D.本选项《波茨坦公告》重申《开罗宣言》必须实行，与材料中所述“规定“不符，故错误。

30.一位同学用教材梳理“殖民地人民反抗斗争”专题，在“第一次工业革命及其影响”单元找出了拉丁美洲独立运动的史实；在“第一次世界大战及战后世界秩序”单元找出了印度非暴力不合作运动的史实。在“二战后世界的变化”单元应找出的史实是

A.苏联的改革

B.西方国家建立社会保障制度

C.非洲独立年

D.世界贸易组织建立

【答案】C**【解析】**本题考查殖民地人民反抗斗争相关知识点。

A.本选项苏联的改革与殖民地人民反抗主题不符，故错误；

B.本选项西方国家建立社会保障制度与殖民地人民反抗主题不符，故错误；

C.本选项非洲独立年指 1960 年 17 个国家获得独立，与殖民地人民反抗主题相符且时间在二战后，故正确；

D.本选项世界贸易组织的建立与殖民地人民反抗主题不符，故错误。

第二部分 材料分析题（共 45 分）

31.（13 分）近代以来，国际秩序不断朝着公正合理的方向发展。

材料一 哥伦布发现新大陆后不到 10 年，葡萄牙从非洲向美洲贩运了第一批黑奴。奴隶贸易给英国利物浦商人带来的直接利润是每年 30 万英镑，利物浦发展成为当时世界最大的港口。而在非洲腹地，一些欧洲探险家看到破败荒凉的景象不禁哀叹：非洲“内地的劳动力枯竭了……非洲每个毛孔都在流血。”

——摘编自艾周昌等《非洲通史》

（1）依据材料一，说出奴隶贸易的背景。（1 分）分析奴隶贸易对欧洲和非洲的不同影响。（2 分）

【答案】背景：新航路的开辟

影响：促进了欧洲资本主义发展；使非洲丧失了大量劳动力，造成了非洲的贫穷落后。

【解析】本题主要考查新航路开辟及三角贸易的相关知识，依据材料一“哥伦布发现新大陆后”可知，奴隶贸易的背景为新航路开辟。结合材料及所学，奴隶贸易对欧洲资本主义发展有促进作用，但使欧洲丧失了近亿精壮劳力，直接影响欧洲的经济发

材料二

战胜国的主要目的	
美国	攫取战后世界的领导权，建立一个普遍性的国际组织
英国	维护自身世界霸权，提出消灭德国海军
法国	争夺欧洲大陆霸权
日本	使战时占领的山东等地合法化，独占中国，称霸亚太地区

《凡尔赛条约》部分内容

- | |
|-------------------------------------|
| ①重划德国疆界。德国在欧洲大陆丧失了 13.5%的领土和 10%的人口 |
| ②瓜分德国海外殖民地。德国在山东的权益交给日本 |
| ③限制德国军备。规定陆军不得超过 10 万人，海军不得拥有主力舰和潜艇 |
| ④成立国际联盟 |

——整理自吴于廑 齐世荣《世界史》

(2) 依据材料二，完成表格。(2 分) 分析凡尔赛体系的实质。(1 分)

战胜国	英国	美国	法国	日本
《凡尔赛条约》中体现战胜国目的的内容 (序号不能重复使用)	③			

【答案】美国④；法国①；日本②

实质：一战后列强对世界的重新瓜分（一战后不合理的国际秩序）

【解析】本题主要考查第一次世界大战及战后世界形势的相关知识，依据材料二给出的《凡尔赛条约》部分内容，并与战胜国目的对应后可知，美国谋求建立“普遍性的国际组织”，与条约中④对应；法国意欲“争夺欧洲大陆霸权”，与条约中①对应；日本力求“独占中国，称霸亚太地区”与条约中②对应。结合材料及所学可知，《凡尔赛条约》下的体系实质为各国列强对世界的重新瓜分，是不合理的国际秩序。

材料三 二战后，美国以欧洲为战略重点推行扩张政策。1947 年，杜鲁门在国会发表咨文，宣称世界已分裂为两个敌对阵营，美国负有领导“自由世界”的使命。同年，马歇尔提出“欧洲复兴计划”，指出美国要援助经济困难的欧洲。1949 年，美国、加拿大和法国等欧洲 10 个国家签订了《北大西洋公约》。

——摘编自吴于廑 齐世荣《世界史》

(3) 依据材料三，指出美国在欧洲扩张的表现。(3 分)

【答案】提出杜鲁门主义；推行马歇尔计划；建立北约。

【解析】本题主要考查二战后国际形势的变化及美苏冷战的相关知识，依据材料三可知，美国在1947年提出“杜鲁门主义”和“马歇尔计划”，在1949年又同法国等欧洲10国签订《北大西洋公约》。

材料四 冷战结束后，美国宣称世界领导地位非它莫属。日本提出以日、美、欧为主导来形成世界新秩序。英国坚持传统的欧洲中心主义。德国强调平等伙伴关系。中国呼吁在和平共处五项原则基础上建立公正合理的国际政治新秩序，强调新秩序的核心是不干涉别国内政和大小国家一律平等。

——摘编自段炳麟等《世界当代史》

（4）依据材料四，指出当今世界政治格局的发展趋势。（1分）中国提出建立国际新秩序的指导原则是什么。（1分）

【答案】世界多极化的发展趋势。和平共处五项原则。

【解析】本题主要考查世界政治经济新格局的相关知识，依据材料四并结合所学可知，当今世界的政治格局的发展趋势为世界多极化，由“中国呼吁在和平共处五项原则基础上”可知中国的指导原则为和平共处五项原则。

材料五 全球治理不是由少数国家来治理其他国家。习近平指出：中国秉持共商共建共享的全球治理观，坚持国家不分大小、强弱、贫富一律平等。中国主张国际规则应该由各国共同书写，全球事务应该由各国共同治理，发展成果应该由各国共同分享。

——摘编自人民日报《全球治理中国方案的世界意义》

（5）依据材料五，概括中国的全球治理观与旧的国际秩序的本质区别。（2分）

【答案】旧的国际秩序体现了霸权主义和强权政治，不公正不合理；中国的全球治理观秉持共商共建共享，是公正、合理的。

【解析】本题主要考查中国全球治理观的相关知识，依据材料五可知，“中国秉持共商共建共享的全球治理观念”、“主张国际规则应该由各国共同书写”，相较于霸权主

义和强权政治下不公正不合理的旧的国际秩序，中国的全球治理观强调共商共建共享，更加公正合理。

32. (12 分) 船舶制造技术的发展推动社会进步。

材料一 与中国古代船舶相关的文物

 <p>①杭州萧山发掘出土的独木舟，距今约 8000 年</p>	 <p>②半坡船形彩陶壶，壶身两侧均画有鱼网纹</p>
 <p>③甲骨上的“舟”字，字形像一只木船，有船舷、船头和船尾</p>	 <p>④汉代陶船，船尾有长方形船舵，比欧洲的船舵早 1000 多年</p>
 <p>⑤东汉铜镜中的帆船纹饰，说明我国汉代已有帆船</p>	 <p>⑥有水密隔舱的宋代沉船，直到 18 世纪英国才引进这种技术建造军舰</p>

(1) 从材料一中，找出能证明以下结论的史料。(写序号，多选、错选不得分)

史前时期人们已掌握造船技术：_____、_____；(2 分)

中国古代的造船技术领先世界：_____、_____。(2 分)

【答案】①②；④⑥

【解析】本题主要考查中国古代科技文化的相关知识，着重考查中国古代造船技术的发展。根据材料一所出示的文物相关年代的判别可知，能佐证史前时期人们已掌握造

船技术的文物是：①②；根据材料一所出示的文物领先世界的时间进行判别，能佐证中国古代造船技术领先世界的是：④⑥。

材料二 有百万人口的北宋东京所需物资主要依靠水运，“汴京四渠”是其重要运输线；南宋时，江南运河以及长江成为新的运输通道。两宋时，海外贸易引起政府关注，为发展远航，港口都有规模很大的造船厂。宋代造船技术高超，打捞出水的南宋沉船“南海一号”长 41.8 米，载重近 425 吨。

——摘编自国家博物馆《文物宋元史》

(2) 依据材料二，分析宋代造船业兴盛的原因。(2 分)

【答案】内河航运的需要；海外贸易的需求；造船技术的进步。

【解析】本题主要考查中国古代科技文化的相关知识，着重考查宋代造船技术的发展。依据材料可知，北宋极倚仗内河航运，“东京所需物资主要依靠水运”；两宋时期“海外贸易引起政府关注”，海外贸易需求量的增加也促进了造船业的兴盛，“港口都有规模很大的造船厂”；“宋代造船技术高超”也是宋代造船业兴盛的原因之一。

材料三 16 世纪，欧洲出现了圆体帆船；葡萄牙人改制了三角帆索具，使船能够更直接地逆风航行。18 世纪，蒸汽机被用于水上运输，这极大的改变了世界。1763 年以前，欧洲与美洲、澳大利亚的联系主要限制在沿海一带，但在后一世纪中，随着汽船往返于内河和沿海，大陆的内地被横越；欧洲与亚洲、非洲的经济联系得以加强。

——摘编自斯塔夫里阿诺斯《全球通史》


(3) 依据材料三，指出 18 世纪欧洲造船技术的巨大进步，并分析其影响。(2 分)

【答案】蒸汽动力取代了风帆动力。使世界的联系范围更广；联系更紧密。

【解析】本题主要考查工业革命及欧洲造船技术的相关知识，由材料三可知，“18 世纪，蒸汽机被用于水上运输”，蒸汽动力开始取代原本的风帆动力，“随着汽船往返于内河和沿海……欧洲与非洲、非洲的经济联系得以加强”加强了世界不同地区的联系，使之更为紧密。

材料四 到 1902 年，福州船政局共建造兵船等船只 39 艘。船政局开始雇佣外国技工，后来自己培养的学生走上了生产岗位。福州船政局派出的留学生归国后，监造的铁肋巡洋舰“开济”号（见下图）是我国历史上吨位最大、航速最高的铁肋巡洋舰，与外国造船技术的差距不断缩小。

——摘编自席龙飞《中国造船史》



（4）依据材料四，概括福州船政局的成就。（2 分）

【答案】加强了中国海军的装备；培养了新式人才；引进了先进技术；提高了造船技术等。

【解析】本题主要考查洋务运动的相关知识，由材料四可知，福州船政局“与外国造船技术的差距不断缩小”，一定程度上提高了中国海洋防御力量，也提升了本国的造船技术；派遣留学生出国学习后，“自己培养的学生走上了生产岗位”，培养了新式人才；船政局“雇佣外国技工”，引进国外先进技术。

材料五 我国造船行业近年来打造了不少大国重器。2017 年，半潜式钻井平台“蓝鲸 1 号”成功开采可燃冰，我国成为领先掌握这一技术的国家。2018 年，我国自行设计、自主研制的载人潜水器“蛟龙号”下潜到 7062 米，对我国开发利用深海资源有重要意义。2017 年，我国首艘国产航母和 055 大型驱逐舰正式下水。

（5）依据材料五，分析造船业中的大国重器对我国的作用。（2 分）

【答案】维护海洋权益；加强对海洋的开发和利用；保卫国家安全等。

【解析】本题主要考查新时期国防建设的相关知识，依据材料可知，“半潜式钻井平台”、“蛟龙号”、“国产航母”、“大型驱逐舰”等“大国重器”的研制和研发，一方面

“对我国开发利用深海资源有重要意义”，加强了对海洋资源的开发和利用；一方面能更好的维护我国海洋权益，由“国产航母”入水、“大型驱逐舰”巡航也能推知大国重器对于保卫国家安全的重要意义。

33.（10分）节日文化也是一种历史文化，有深刻的寓意。

材料一 秦汉时期，华夏族逐渐形成一个整体，周边的巴蜀、南越等先后融入其中，成为当时主导民族“汉族”。汉族许多节日民俗大多出现于秦汉。先秦时因各地历法不一，许多节日均无准确日期，知道秦汉时期历法统一后，许多节日才有了固定日期。

——摘编自周耀明等《汉族风俗史》

（1）依据材料一，说明秦汉时期我国传统节日定型的主要原因。（2分）

【答案】汉族的形成；秦汉大一统；历法的统一。

【解析】本题主要考查孩子们的信息提取、材料概括能力，依据材料“秦汉时期……成为汉族”可知，我国传统节日定型的原因与汉族的形成有关；依据材料“汉族许多……出现于秦汉”“先秦时因……有了固定日期”可知我国传统节日的定型的原因与“秦汉大一统”“历法的统一”有关，本题结合材料围绕“汉族的形成”“秦汉大一统”“历法的统一”作答即可，一点一分，答出任意两点即可获得满分。

材料二

传统节日	简介
春节	夏朝已有春节，意在庆祝五谷丰登，期盼来年丰收。过年时全家团聚，有接福迎祥、贴春联、放爆竹、守岁、拜年等礼俗
清明节	大约开始于周朝，全家人扫墓祭祖。亲朋好友也一起到郊外放风筝，荡秋千，享受大自然
端午节	大约始于春秋战国时期，赛龙舟、吃粽子是流传最广的习俗，还会给儿童戴五彩丝，企盼驱恶免疾

中秋节	大体形成于唐朝，人们认为中秋满月象征团圆、美满，全家人一起赏月、吃月饼
-----	-------------------------------------

(2) 依据材料二，概括我国传统节日的特点。(2 分)

【答案】历史悠久；形成了特有的节日习俗；节日都寄托了人们的美好愿望和情感；重视亲情伦理。

【解析】本题主要考查孩子们的信息提取、材料概括能力，依据材料“夏朝已有春节”“清明节大约开始于周朝”“端午节大约始于春秋战国时期”“中秋节大体形成于唐朝”可知我国传统节日拥有悠久的历史；依据材料不同节日拥有不同的礼俗可知我国的传统节日形成了特有的节日习俗；依据材料“接福迎祥”“扫墓祭祖”“驱恶免疾”“团圆、美满”等信息可知我国的传统的节日寄托了人们的美好愿望和情感，重视亲情伦理。本题围绕“历史悠久”“形成了特有的节日习俗”“节日都寄托了人们的美好愿望和情感”“重视亲情伦理”作答即可，写出一项得一分。

材料三 1877 年，美国工人受巴黎公社启发，进行全国大罢工，迫使国会制定了八小时工作制的法律。1886 年 5 月 1 日，美、加两国工人举行总罢工，要求实行八小时工作制。此后，五月一日定为国际劳动节。

李大钊等将“五一”劳动节介绍到中国，希望中国工人把它看成觉醒的日子。1920 年 5 月 1 日，十几个城市的五六万工人集会游行，第一次喊出“劳工万岁”。当天发表的《五月一日北京劳工宣言》提出了中国工人阶级的目前要求和长远奋斗目标。

——摘编自李润波《老报刊见证——“五一”国际劳动节的由来》等

(3) 依据材料三，指出“五一”国际劳动节出现的时代背景。(1 分) 分析这一节日传入中国后所起的作用。(1 分)

【答案】国际工人运动的发展。促进了中国工人运动的发展。

【解析】本题主要考查孩子们的信息提取、概括、分析能力。第一问考查的知识点为五四运动的背景，结合所学可知，五四运动爆发于 1919 年 5 月 4 日。依据材料

“1877年……工作制的法律”“1886年5月1日……八小时工作制”可知五四运动爆发前，国际工人运动在持续发展，第一问围绕“国际工人运动的发展”作答即可；第二问考查孩子们的信息提取、分析能力，依据材料“李大钊……觉醒的日子”“1920年5月1日……‘劳工万岁’”可知五一劳动节的传入促进了中国工人运动的发展，本题围绕“促进了中国工人运动的发展”作答即可。

材料四 五四运动大事年表（部分）

时间	大事
5月4日	北京学生游行示威，北洋军阀逮捕爱国学生
5月5日~5月14日	北京各大专学校总罢课，声援被捕学生
5月14日~6月4日	政府镇压学生运动，1000多名学生被捕
6月5日	上海工人罢工，商人罢市，学生罢课，支持北京学生的爱国运动
6月6日	上海罢工、罢市规模扩大，随后扩展到其他城市
6月8日~6月10日	被捕学生出狱，曹汝霖、章宗祥、陆宗輿被罢免
6月28日	中国代表在巴黎和会上拒签和约

（4）依据材料四，将五四运动划分为两个阶段，并说出划分依据。（2分）

【答案】第一阶段：5月4日至6月4日，第二阶段：6月5日及以后。依据：运动主体、运动中心和运动范围等发生变化。

【解析】本题考查的知识点为五四运动的过程，主要考查孩子们信息提取、分析能力以及论证能力。第一问，依据材料中五四运动部分的大事年表可知，5月4日-6月4日，运动主体是学生，运动中心在北京，运动范围主要是在学校；6月5日及以后，运动主体是工人，运动中心在上海，运动范围扩大到了学校、商界和工厂。依据材料，第一问的答案为“第一阶段：5月4日到6月4日；第二阶段：6月5日及以后”；第二问围绕“运动主体”“运动中心和运动范围等发生变化”作答即可。

材料五 1949年中华人民共和国政务院正式宣布5月4日为中国青年节，以下是五四运动主要领导人以及他们对五四运动的认识：

人物	当时年龄	在五四运动中的作用	对五四运动的认识
毛泽东	26	湖南五四运动的领导者	五四运动反对的是卖国政府、出卖民族利益的政府
瞿秋白	20	学生骨干	五四运动在开始时便接近民众，用革命手段为平民奋斗，这是以前运动所没有的
罗家伦	22	学生领袖	五四运动有奋空拳，扬白手，和黑暗势力相斗争的牺牲精神
许德珩	29	学生领袖	要建设科学的新中国，更要建设民主的新中国

(5) 依据材料五并结合所学，说出为什么把5月4日定为中国青年节。(1分) 谈谈你对五四精神的理解。(1分)

【答案】青年学生首先掀起了五四运动，并在运动中发挥了重要作用，这是一次彻底的反帝反封建的爱国运动。五四运动体现了爱国主义精神；勇于承担社会责任；追求民主、科学等。

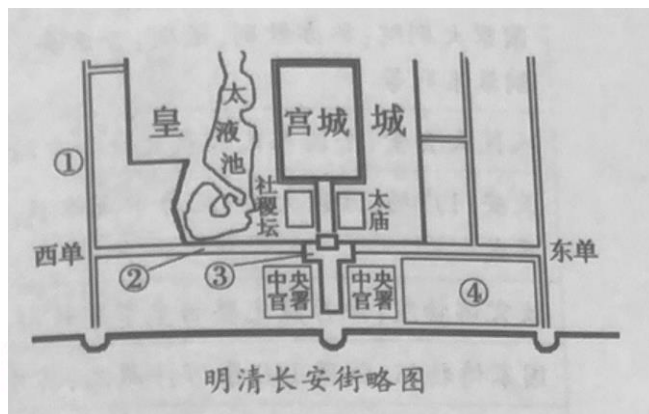
【解析】本题主要考查孩子们信息提取、分析以及知识运用的能力。第一问，依据材料并结合所学可知，五四运动首先是由青年学生发起的，学生在运动中发挥着重要的作用，是一次彻底的反帝反封建的爱国运动。五四运动体现了爱国主义、勇于承担社会责任等精神。第一问围绕着“青年学生首先发起五四运动，学生在五四运动中发挥的作用，五四运动的性质”作答即可。第二问围绕着“爱国主义精神”“勇于承担社会责任”“追求民主、科学”角度作答即可。

34. (10分) 长安街被称为“神州第一街”，是国家形象的象征。某历史社团开展了长安

街考察活动。

【图文研究】

材料一 明清时，长安街东起东单，西至西单，全长 3.7 公里，中间被一个 T 型宫廷广场阻断，不许百姓通行。广场东西两侧是中央官署（见右图），东侧为吏部、户部等文官结构，西侧为五军都督府、锦衣卫（明代）、刑部等（清代）。



（1）指出右图中长安街的位置。（写序号，1 分）依据材料一，说出明清时期长安街及两侧建筑布局所反映的特点。（1 分）

【答案】②；政治职能突出；体现了皇权至上等。

【解析】本题主要考查孩子们的信息提取、分析及读图能力。第一问，依据材料“长安街东起东单，西至西单”可知，长安街的位置为“②”；第二问，依据材料“不许百姓通行”“广场东西……刑部等（清代）”可知长安街并不是所有人都可以通行的，体现了阶级特权，第二问围绕“皇权至上”等角度作答即可。

材料二 1901 年后，东长安街至南城墙的区域（《明清长安街略图》中④处）为外国人专用，中国人不能在界内居住。1912 年，天安门广场和长安街的封闭格局被打破。东西长安街终于得以贯通，天安门广场也开始对外开放。

——摘编自郑光中等《天安门广场——长安街规划思考》

（2）依据以上材料并结合所学，说出《明清长安街略图》中④处不许中国人居住的原因。（1 分）说出与打破长安街封闭格局相关的历史事件。（1 分）

【答案】《辛丑条约》的签订。辛亥革命（清帝退位）

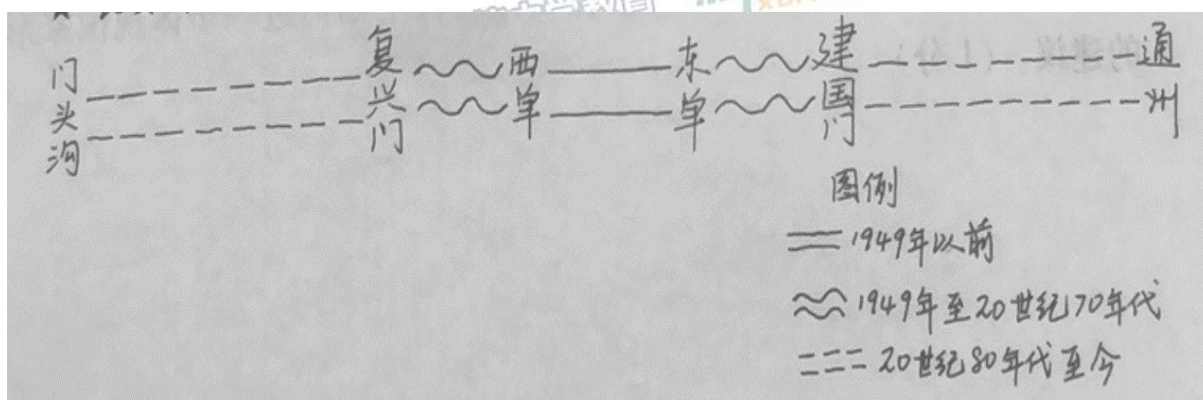
【解析】本题主要考查孩子们的信息提取、分析及知识运用能力。第一问，依据材料并结合所学可知 1901 年，中国与帝国主义国家签订《辛丑条约》，东交民巷划定为使

馆区，中国人不得居住，图中的“④”为东交民巷，第一问围绕“《辛丑条约》的签订”作答即可；第二问，依据材料并结合所学可知，1911年中国爆发辛亥革命，1912年3月，溥仪宣布退位，在中国存在两千多年的封建帝制宣告结束，长安街封闭的格局被打破，第二问围绕“辛亥革命（清帝退位）”作答即可。

【实地考察】

材料三 考察笔记1

★长安街变迁示意图



★建国以来长安街（复兴门至建国门）修建的建筑物的主要功能（单位：座）

时期	行政	文化	服务	商业	金融	科研
1950~1977 年	5	4	6	0	0	0
1978~2017 年	7	7	5	13	6	1

（3）依据材料三，说出 1978 年前后长安街发生的变化。（2 分）结合所学，分析发生变化的原因。（1 分）

【答案】变化：长安街向东西向双方向延长；沿线建筑物的数量及功能增多等。

原因：改革开放；北京城市规模的扩大等。

【解析】本题主要考查孩子们的读图、读表及信息分析能力。第一问，依据“长安街变迁示意图”及长安街建筑物的主要功能可知从 1949 年之前到今天，长安街向东西双方向延长；沿线建筑物的数量及功能逐渐增多，第一问，围绕“向东西双方向延长”“沿线建筑物的数量及功能增多”作答即可。第二问，依据材料并结合所学可

知，1978 年，我国开始实行改革开放，经济逐步发展，北京城市规模逐步扩大。第二问围绕“改革开放”“北京城市规模扩大”等角度作答即可。

【成果运用】

材料四 考察笔记 2——长安街沿线重要建筑（部分）

国家大剧院：举办歌剧、话剧、音乐会、舞蹈、戏曲等演出，其中包括国际戏剧季、国际钢琴系列等
人民大会堂：全国人民代表大会和中国人民政治协商会议在此召开
天安门广场：开国大典；纪念中国人民抗日战争暨世界反法西斯战争胜利 70 周年阅兵式
故宫博物院：保存最完整的皇家建筑群，收藏的文物数量达 180 余万件（套）
国家博物馆：收藏 140 余万件藏品，其中有近 6000 件国家一级文物
建国饭店：我国第一家中外合资饭店，1982 年，在东长安街开业
中央商务区（CBD）：区域内集中了跨国公司地区总部 50 家，国际金融机构 252 家。同时，通过展览馆、会展中心等举办大型国际会议和展览

（4）北京“四个中心”定位是全国政治中心、文化中心、国际交往中心、科技创新中心。依据材料四，说出长安街与其中一个中心的关系。（史实恰当，逻辑清晰，2 分）

示例：国家博物馆藏品数量多，质量精，承载了中国优秀传统文化和革命文化，为我们了解历史提供了宝贵资源，体现了北京作为文化中心的深厚底蕴。

【答案】史实恰当，逻辑清晰。

【解析】本题主要考查孩子们的信息提取，分析能力，本题参照范例，史实恰当，逻辑清晰即可

材料五 《北京城市总体规划（2016 年-2035 年）》中提到北京城市空间结构中的“一轴”：“长安街及其延长线以天安门广场为中心东西向延伸……向西延伸至首钢地区、

永定河水系、西山山脉，向东延伸至北京城市副中心和北运河、潮白河水系。”

（5）依据以上北京市总体规划，长安街在延伸过程中如何进一步体现国家形象，提出你的建议。（1分）

【答案】建议合理，表述清楚。

示例：要保护延长线的文化古迹，弘扬优秀传统文化。

要有世界眼光，吸收先进的城市规划理念和建筑技术。

要注意与自然环境的和谐统一。

要关注民生，建设畅通城市，便利民众出行。

【解析】本题是一道开放性题目，重点考查孩子们的表达能力，本题符合主流价值观、建议合理，表述清楚即可。